
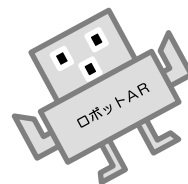


が 月	に ち 日	ねん 年	くみ 組
なまえ 名前			
てん 点			

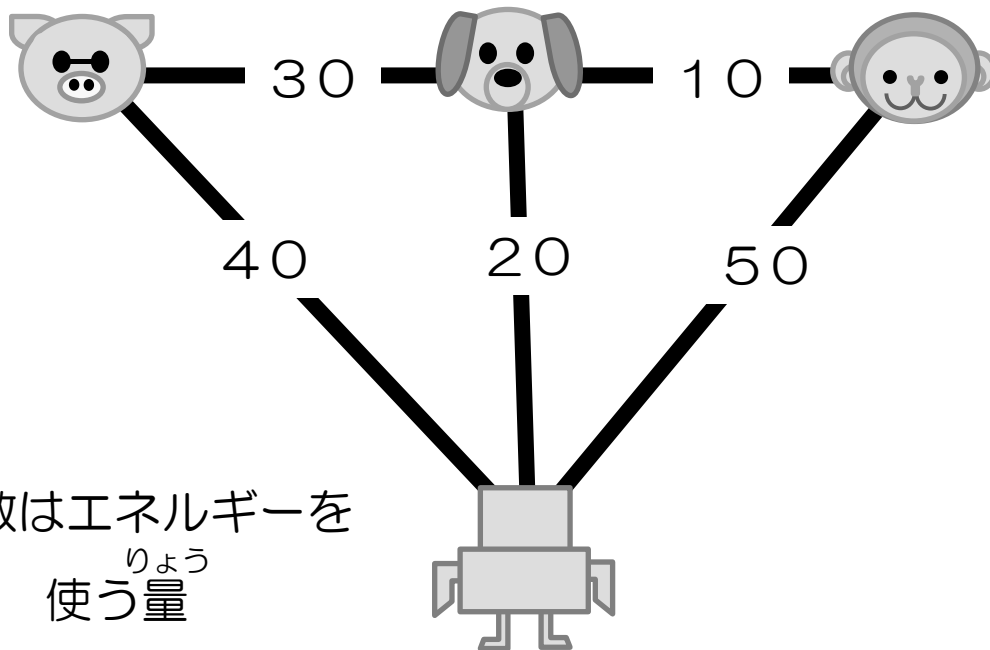


アルゴリズム①






① ロボットは どうぶつ(動物)の家に  
行くのにエネルギーを 使(つか)います。

エネルギーを つかうときの データ



数はエネルギーを  
使う量りょう

- ① さいしよ  の家に行くときに使う  
エネルギーはいくつですか? こたえ ( )
- ② さいしよ  の家。次に  の家  
に行くときに使う エネルギーはいくつですか?  
こたえ ( )